




PROVA SCRITTA

BUSTA 1

- A. Il candidato illustri brevemente quali sono i compiti del Sindaco;
- B. Il candidato illustri quali sono i compiti del Responsabile del Servizio Prevenzione e Protezione (RSPP);
- C. Nell'installazione di un cantiere temporaneo a bordo stradale viene occupata parzialmente una corsia di transito tale da non impedire il transito delle automobili e comunque da costituire un restringimento della sede stradale: quali sono i TRE cartelli da posizionare in sequenza e come vanno posizionati (indicare la sequenza da quello più lontano dal cantiere a quello più vicino):

○ Segnale triangolare giallo con indicazione di lavori in corso  ;

○ Segnale circolare BLU con freccia di indicazione di transito (passaggio obbligatorio)  ;

○ Segnale circolare con banda rossa e indicazione di 30 km/h  ;




- D. Sugli estintori sono riportati dei pittogrammi che indicano per quale uso sono adatti che si distinguono in Fuochi di Classe A, B, C, D, F ed E.



Il candidato illustri per quali materiali è indicato l'utilizzo dell'estintore di TIPO A.

BUSTA 2 (**PROVA ESTRATTA**)

- A. Il candidato illustri brevemente quali sono i compiti del Sindaco;
- B. Il candidato illustri quali sono i compiti del Responsabile dei Lavoratori per la sicurezza (RLS)
- C. Nell'installazione di un cantiere temporaneo a bordo stradale viene occupata parzialmente una corsia di transito tale da non impedire il transito delle automobili e comunque da costituire un restringimento della sede stradale: indicare su quale delle seguenti opzioni va posizionata la luce rossa fissa:

1. Segnale triangolare giallo con indicazione di lavori in corso ;
2. Segnale circolare BLU con freccia di indicazione di transito (passaggio obbligatorio) ;
3. Segnale circolare con banda rossa e indicazione di 30 km/h ;




- D. Sugli estintori sono riportati dei pittogrammi che indicano per quale uso sono adatti che si distinguono in Fuochi di Classe A, B, C, D, F ed E.



Il candidato illustri per quali materiali è indicato l'utilizzo dell'estintore di TIPO B.

BUSTA 3

- A. Il candidato illustri brevemente quali sono i compiti del Sindaco;
- B. Il candidato illustri quali sono i compiti del Medico competente per la sicurezza e in che modo e formalità vengono svolti;
- C. Nell'installazione di un cantiere temporaneo a bordo stradale viene occupata parzialmente una corsia di transito tale da non impedire il transito delle automobili e comunque da costituire un restringimento della sede stradale: indicare su quali delle seguenti opzioni va posizionata la luce gialla:

1. Segnale triangolare giallo con indicazione di lavori in corso ;
2. Segnale circolare BLU con freccia di indicazione di transito (passaggio obbligatorio) ;
3. Segnale circolare con banda rossa e indicazione di 30 km/h ;

- D. Sugli estintori sono riportati dei pittogrammi che indicano per quale uso sono adatti che si distinguono in Fuochi di Classe A, B, C, D, F ed E.



Il candidato illustri per quali materiali è indicato l'utilizzo dell'estintore di TIPO E.

PROVA PRATICA

BUSTA A

1. Il candidato proceda con l'utilizzo correttamente della **motosega** dimostrando le proprie abilità e facilità di utilizzo.
2. Il candidato proceda con l'utilizzo dell'UNIMOG effettuando le seguenti manovre entro il tempo massimo di 4 minuti: Uscita dal magazzino in retromarcia, manovra per portare il mezzo in direzione corretta di marcia, transito sulla strada comunale di via Neziole sino alla rotonda e rientro in magazzino.

BUSTA B

1. Il candidato proceda con l'utilizzo correttamente del **soffiatore** dimostrando le proprie abilità e facilità di utilizzo.
2. Il candidato proceda con l'utilizzo dell'UNIMOG effettuando le seguenti manovre entro il tempo massimo di 4 minuti: Uscita dal magazzino in retromarcia, manovra per portare il mezzo in direzione corretta di marcia, transito sulla strada comunale di via Neziole sino alla rotonda e rientro in magazzino.

BUSTA C

1. Il candidato proceda con l'utilizzo correttamente del **decespugliatore** dimostrando le proprie abilità e facilità di utilizzo.
2. Il candidato proceda con l'utilizzo dell'UNIMOG effettuando le seguenti manovre entro il tempo massimo di 4 minuti: Uscita dal magazzino in retromarcia, manovra per portare il mezzo in direzione corretta di marcia, transito sulla strada comunale di via Neziole sino alla rotonda e rientro in magazzino.

DOMANDE PROVA ORALE

1^ GRUPPO:

Durante uno spostamento su un mezzo si evidenzia una buca sulla carreggiata. Il candidato descriva il comportamento da tenere

Durante una giornata di pioggia e forte vento rileva che un cartello di segnaletica verticale posizionato all'ingresso di una rotonda è a terra appoggiato al relativo palo di sostegno. Il candidato descriva il comportamento da tenere

Durante il transito su una strada principale di montagna rileva la presenza di un masso di grosse dimensioni immediatamente dopo una curva cieca. Il candidato descriva il comportamento da tenere

2^ GRUPPO:

Diritti e doveri del pubblico dipendente

Il codice di comportamento del dipendente pubblico

Responsabilità di un dipendente pubblico

3^ GRUPPO:

Le competenze della Giunta Comunale

Le competenze del Consiglio Comunale

Il Responsabile di Servizio