




TRACCE PROVA TEORICO-PRATICA




BUSTA A

1. Il candidato proceda con l'utilizzo correttamente della **motosega** dimostrando le proprie abilità e facilità di utilizzo.
2. Il candidato proceda con l'utilizzo dell'UNIMOG effettuando le seguenti manovre entro il tempo massimo di 4 minuti: Uscita dal magazzino in retromarcia, manovra per portare il mezzo in direzione corretta di marcia, transito sulla strada comunale di via Neziole sino alla rotatoria e rientro in magazzino.
3. Nell'installazione di un cantiere temporaneo a bordo stradale, viene occupata parzialmente una corsia di transito tale da non impedirne comunque il transito delle automobili e tale comunque da costituire un restringimento della sede stradale: quali sono i TRE cartelli da posizionare in sequenza e come vanno posizionati (indicarne la sequenza da quello più lontano dal cantiere a quello più vicino):

- o Segnale triangolare giallo con indicazione di lavori in corso  ;
- o Segnale circolare BLU con freccia di indicazione di transito (passaggio obbligatorio)  ;
- o Segnale circolare con banda rossa e indicazione di 30 km/h  ;


BUSTA B

1. Il candidato proceda con l'utilizzo correttamente del **soffiatore** dimostrando le proprie abilità e facilità di utilizzo.
2. Il candidato proceda con l'utilizzo dell'UNIMOG effettuando le seguenti manovre entro il tempo massimo di 4 minuti: Uscita dal magazzino in retromarcia, manovra per portare il mezzo in direzione corretta di marcia, transito sulla strada comunale di via Neziole sino alla rotatoria e rientro in magazzino.
3. Nell'installazione di un cantiere temporaneo a bordo stradale, viene occupata parzialmente una corsia di transito tale da non impedirne comunque il transito delle automobili e tale comunque da costituire un restringimento della sede stradale: quali sono i TRE cartelli da posizionare in sequenza e come vanno posizionati (indicarne la sequenza da quello più lontano dal cantiere a quello più vicino):


- a. Segnale triangolare giallo con indicazione di lavori in corso  ;
- b. Segnale circolare BLU con freccia di indicazione di transito (passaggio obbligatorio)  ;
- c. Segnale circolare con banda rossa e indicazione di 30 km/h  ;

BUSTA C

1. Il candidato proceda con l'utilizzo correttamente del **decespugliatore** dimostrando le proprie abilità e facilità di utilizzo.
2. Il candidato proceda con l'utilizzo dell'UNIMOG effettuando le seguenti manovre entro il tempo massimo di 4 minuti: Uscita dal magazzino in retromarcia, manovra per portare il mezzo in direzione corretta di marcia, transito sulla strada comunale di via Neziole sino alla rotatoria e rientro in magazzino.
3. Nell'istallazione di un cantiere temporaneo a bordo stradale, viene occupata parzialmente una corsia di transito tale da non impedirne comunque il transito delle automobili e tale comunque da costituire un restringimento della sede stradale: quali sono i TRE cartelli da posizionare in sequenza e come vanno posizionati (indicarne la sequenza da quello più lontano dal cantiere a quello più vicino):

- a. Segnale triangolare giallo con indicazione di lavori in corso  ;
- b. Segnale circolare BLU con freccia di indicazione di transito (passaggio obbligatorio)



- c. Segnale circolare con banda rossa e indicazione di 30 km/h  ;